


20.../20... EĞİTİM ÖĞRETİM YILI
..... ORTAOKULU 5/... SINIFI
FEN BİLİMLERİ DERSİ 2.DÖNEM 1.ORTAK SINAV SORULARI
MEB-SENARYO 6'YA UYGUNDUR

ADI SOYADI :
NO :

Not

1. K, L ve M maddelerinin ışığı geçirme miktarları aşağıdaki görsellerdeki gibidir. Buna göre K, L ve M maddeleri ne olabilir yazınız(12 puan)
K, L ve M maddelerine birer örnek veriniz (12 puan)



K



L



M

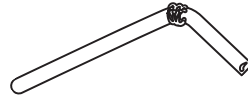
2. Aşağıda farklı şekillerde pipetler verilmiştir.
Buna göre, kaç numaralı pipetlerin bir ucundan bakan öğrenci, diğer ucundaki mumun ışığını görebilir? (10 puan)
Cevabınızı yazınız ve nedenini açıklayınız.(10 puan)



Şekil-1



Şekil-2

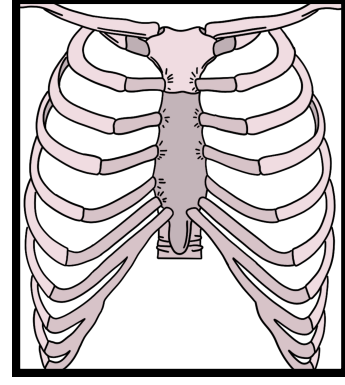
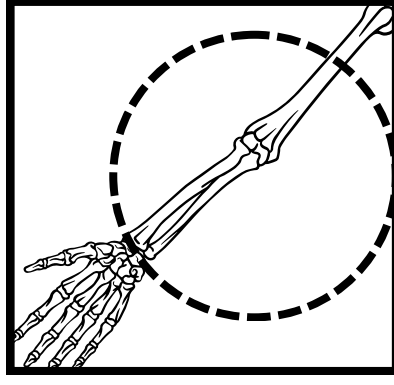
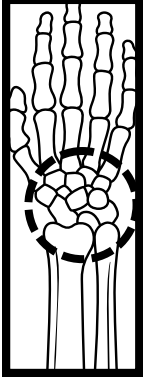


Şekil-3



Şekil-4

3. Görselde vücudumuza ait bazı yapılar verilmiştir. Bu yapılar da bulunan kemik çeşitlerini altlarına yazınız. (20 puan)



4. Destek ve hareket sisteminin sağlığını etkileyen olumlu ve olumsuz davranışlara ikişer örnek yazınız.. (20 puan)

.....

5. Ekran topa yaklaştırılırsa ve uzaklaştırılırsa gölge boyu nasıl değişir yazınız.(16 puan)

